









Los céntimos

1 Observa las monedas y completa su valor.

		
<input type="text" value="1"/> céntimo	<input type="text" value="2"/> céntimos	<input type="text" value="5"/> céntimos
		
<input type="text" value="10"/> céntimos	<input type="text" value="20"/> céntimos	<input type="text" value="50"/> céntimos

2 ¿Cuántos céntimos hay? Calcula y completa.

+ =

céntimos



  

+ + =

céntimos



Suma mentalmente.

+ =

céntimos

+ + =

céntimos

+ + + =

céntimos

3 Rodea las monedas que necesitas para pagar.



4 Lee y resuelve.

Blanca compra un sacapuntas y una goma.
¿Cuántos céntimos tiene que pagar en total?



DATOS y

OPERACIÓN

SOLUCIÓN Tiene que pagar

• ¿Qué monedas entregará?
Escribe el número de céntimos.

SERIE NUMÉRICA

- 40 - 35 - 30 -
- 37 - 32 - 27 -
- 59 - 54 - 49 -
- 90 - 85 - 80 -
- 74 - 69 - 64 -
- 82 - 77 - 72 -

ciento ochenta y uno 181