

Sumas de tres números llevando



1 Lee y calcula.

Alejandra guarda en el cajón 23 cucharas, 19 cuchillos y 34 tenedores. ¿Cuántos cubiertos tiene en total?



Calcula $23 + 19 + 34$.

1.º Sumo las unidades.

$3 + 9 + 4 = 16 \rightarrow$ Escribo el 6.
 \hookrightarrow Me llevo 1 decena.

Me llevo 1.

$$\begin{array}{r} 23 \\ 19 \\ + 34 \\ \hline 6 \end{array}$$

2.º Sumo las decenas.

Recuerdo la que me llevo.

$1 + 2 + 1 + 3 = 7$

1 + ...

$$\begin{array}{r} 23 \\ 19 \\ + 34 \\ \hline 76 \end{array}$$

$23 + 19 + 34 = \square$ Tiene

2 Calcula estas sumas.

$$\begin{array}{r} 15 \\ 13 \\ + 27 \\ \hline \square \end{array} \quad \begin{array}{r} 38 \\ 24 \\ + 36 \\ \hline \square \end{array} \quad \begin{array}{r} 42 \\ 39 \\ + 8 \\ \hline \square \end{array}$$

Recuerda la decena que te llevas, pero no la escribas.



3 Coloca los números y suma.





Fíjate bien en si son sumas llevando o sin llevar.

$37 + 42 + 16$

$53 + 14 + 22$

$61 + 34 + 2$

$45 + 27 + 6$



4 Lee y resuelve.

Un tren tiene tres vagones. En el primer vagón viajan 32 personas; en el segundo, 18 personas; y en el tercero, 25.


¿Cuántas personas viajan en el tren?



DATOS

, y

OPERACIÓN



SOLUCIÓN

En el tren viajan

SERIE GEOMÉTRICA

