

10

Prueba de control

MODELO A

Nombre _____ Fecha _____

1 Observa en cada caso la hoja del calendario y contesta.



Faltan 5 días para mi cumpleaños.



Mi cumpleaños fue el martes pasado.





• ¿Qué día es el cumpleaños de Vicente?

• ¿Qué día fue el cumpleaños de Clara?

2 ¿Qué forma tienen estos objetos? Escribe nombres de cuerpos geométricos.








3 Coloca los números y suma.


$37 + 6$

$19 + 28$

$46 + 37$

$54 + 26$

$66 + 14$



4 Completa para que sean sumas llevando. Después, calcula.

$$\begin{array}{r} 81 \\ + \quad \square \\ \hline \square \end{array}$$

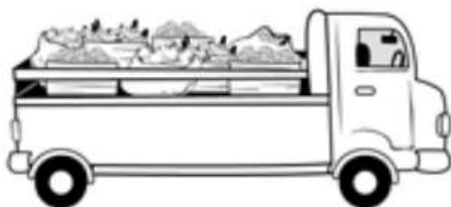
$$\begin{array}{r} 23 \\ + 5 \square \\ \hline \square \end{array}$$

$$\begin{array}{r} 65 \\ + 2 \square \\ \hline \square \end{array}$$


$$\begin{array}{r} 19 \\ + 4 \square \\ \hline \square \end{array}$$

5 Lee y resuelve.

Un camión transporta 26 cajas de ciruelas,
12 bolsas de naranjas y 18 cajas de plátanos.
¿Cuántas cajas de fruta transporta el camión?



Operación



Solución

Transporta