

# SABER HACER

## Preparo varios ramos de flores


RAMO 1

35  18 

RAMO 2

22  24 

RAMO 3





19  36 

Hay que hacer tres ramos.



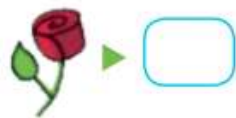


1 Traslada a la tabla los datos de las tarjetas.



				
RAMO 1				
RAMO 2				
RAMO 3				

2 ¿Cuántas flores de cada tipo se necesitan en total?



3 ¿Cuántas flores tendrá cada ramo? Calcula.

RAMO 1                      RAMO 2                      RAMO 3

► ¿Qué ramo tendrá más flores?

4 ¿Qué operaciones has tenido que realizar para calcular el total de flores de cada ramo? Marca.

Tres sumas sin llevar.

Tres restas.

Dos sumas sin llevar y una llevando.

Dos sumas llevando y una sin llevar.

5 **VALORES.** ¿Crees que las plantas son importantes?

- ¿Piensas que cuidamos bien los bosques y jardines?
- Comenta con tu compañero o compañera algunas medidas para cuidar mejor las plantas de vuestro entorno.



¿A quién te gustaría regalarle un ramo de flores?  
Dibuja un bonito ramo en una cartulina y dáselo a la persona que hayas elegido.

