

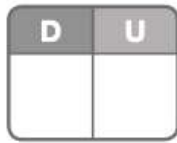
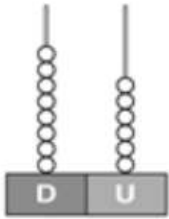
9

Prueba de control

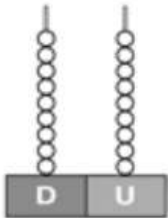
MODELO A

Nombre _____ Fecha _____

1 ¿Qué números son? Completa y escribe cómo se leen.



decenas y unidades.



decenas y unidades.

2 Lee y escribe los números hasta el 99 que correspondan.

Números pares
con 8 decenas.

▶

Números impares
con 9 decenas.

▶

3 Calcula las sumas.


$$\begin{array}{r} 43 \\ 12 \\ + 24 \\ \hline \end{array}$$

$$\begin{array}{r} 12 \\ 40 \\ + 2 \\ \hline \end{array}$$

$$\begin{array}{r} 42 \\ 31 \\ + 13 \\ \hline \end{array}$$


$$\begin{array}{r} 41 \\ 25 \\ + 3 \\ \hline \end{array}$$

4 ¿Qué piso es? Escribe el ordinal y cómo se lee.



<input type="text"/>	▶	<input type="text"/>
<input type="text"/>	▶	<input type="text"/>
<input type="text"/>	▶	<input type="text"/>
<input type="text"/>	▶	<input type="text"/>
<input type="text"/>	▶	<input type="text"/>
<input type="text"/>	▶	<input type="text"/>
<input type="text"/>	▶	<input type="text"/>
<input type="text"/>	▶	<input type="text"/>
<input type="text"/>	▶	<input type="text"/>
<input type="text"/>	▶	<input type="text"/>

5 ¿Quién va delante? ¿Y detrás? Observa y escribe el nombre.



Detrás del 1.º



Detrás del 8.º



Delante del 4.º

