

# RESUELVO PROBLEMAS

## Problemas de suma o de resta

1 Busca los datos en la tabla y resuelve.

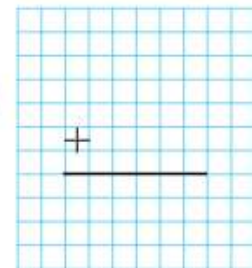
PRECIO DE LAS ENTRADAS		
	Niños	Adultos
Títeres	12 €	17 €
Concierto	15 €	23 €



- Enrique compra una entrada de niño y otra de adulto para los títeres. ¿Cuántos euros pagará?

DATOS  y

OPERACIÓN



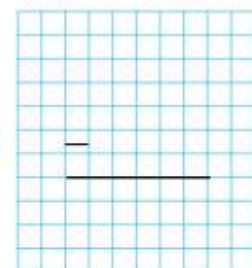
SOLUCIÓN

- África compra una entrada de niño para el concierto. Entrega 25 euros. ¿Cuánto le devuelven?



DATOS  y

OPERACIÓN



SOLUCIÓN

2 Localiza los datos y resuelve.

Tomás: Tengo 32 puntos.

Eva: He sacado 54 puntos.

Rosa: Y yo, 13 puntos menos que Rosa.


Luis: Tengo 26 puntos más que Tomás.

- ¿Cuántos puntos tienen en total Tomás y Rosa?

DATOS

 y 

OPERACIÓN



SOLUCIÓN


Tienen

- ¿Cuántos puntos tiene Luis?

DATOS

 y 

OPERACIÓN




- ¿Cuántos puntos tiene Eva?

DATOS

 y 

OPERACIÓN



SOLUCIÓN

Luis tiene puntos y Eva.